

Severné stredohorie

7. trieda

Meno pedagóga	Szászné Sándor Erika
Pracovisko	Buková slovenská národnostná základná škola 3557 Bükkszentkereszt, Széchenyi út 2.
Predmet	Slovenský jazyk
Tematický okruh	Spracovanie textu
Trieda	7.
Výchovno-vzdelávací cieľ Kompetencie	Vyjadrovať svojej myšlienky, samostatne komunikovať pomocou nasledujúcich kompetencií: <ul style="list-style-type: none">- jazyková kompetencia;- komunikatívna kompetencia;- gramatická kompetencia;- sociálno-kultúrna kompetencia;- diskurzívna kompetencia;
Použitá literatúra	https://www.youtube.com/watch?v=GBTukSC81QI

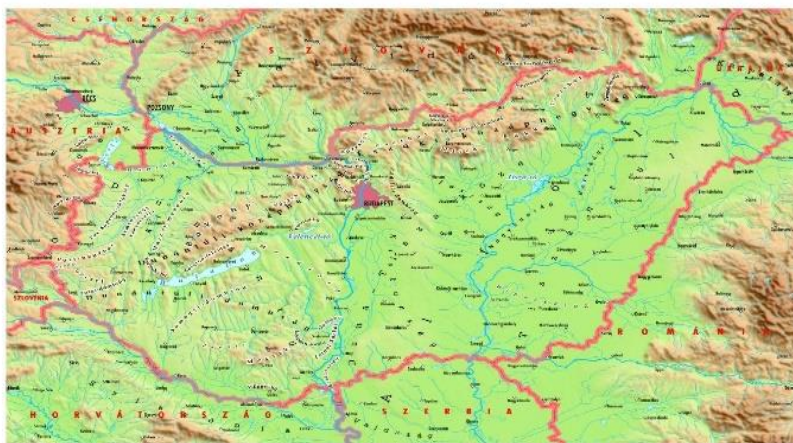
Pozorne si prečítaj text!

Severné stredohorie je naša najvyššia oblasť. Tu - v Mátre - sa nachádza najvyšší štít/vrchol našej vlasti: Kékeš – 1014 metrov nad morskou výškou. Časti Severného stredohoria sú: Börzöň, Čerhát, Mátra, Bukové vrchy a Zemplínske vrchy. Pohoria sú od seba oddelené dolinami, riekami a panvami. Ich územie pokrývajú lesy veľkých rozmerov.

Slovník

(Neznáme slová napíš do slovníka.)

najvyšší, -ia, -ie: legmagasabb
oblasť, územie - terület
vrchol, štít – orom, (hegy)csúcs
Bukový vrch – Bükk
Zemplínsky vrch – Zempléni-hegység
pohorie - hegység
oddelený, -á, -é: elválasztott, elkülönített
dolina - völgy
panva - medence
pokrývať - borít
rozmer – méret, mérték, terjedelem



<https://www.google.com/search?q=%C3%A9szak+magyarorsz%C3%A1g+f%C3%B6ldrajzi+t%C3%A9rk%C3%A9p&tbm>

Časti Severného stredohoria

Prameň fotiek: pixabay



Börzöň



Čerhát



Mátra



Bukové vrchy



Zemplínske vrchy

1. Prelož text do maďarčiny!

2. Ktorá veta patrí k obrázku? Do druhého slpca napíš správnu vetu!






Severné stredohorie je naša najvyššia oblasť.

Pohoria sú od seba oddelené dolinami, riek a panvami.

Tu sa nachádza najvyšší vrchol našej vlasti Kékeš.

Časti Severného stredohoria sú: Börzöň, Čerhát, Mátra, Bukové vrchy a Zemplínske vrchy.

Ich územie pokrývajú lesy veľkých rozmerov.

	<p>.....</p> <p>.....</p> <p>.....</p> <p>.....</p>
	<p>.....</p> <p>.....</p> <p>.....</p> <p>.....</p>
	<p>.....</p> <p>.....</p> <p>.....</p> <p>.....</p>
	<p>.....</p> <p>.....</p> <p>.....</p> <p>.....</p>
	<p>.....</p> <p>.....</p> <p>.....</p> <p>.....</p>

3. Dokonči vety!

Najvyšší vrch Severného stredohoria je _____.

Jeho výška je _____.

V ktorej časti Severného stredohoria sa nachádza najvyšší bod Maďarska?

_____.

Aké vrchy sa nachádzajú v Severnom stredohorí?

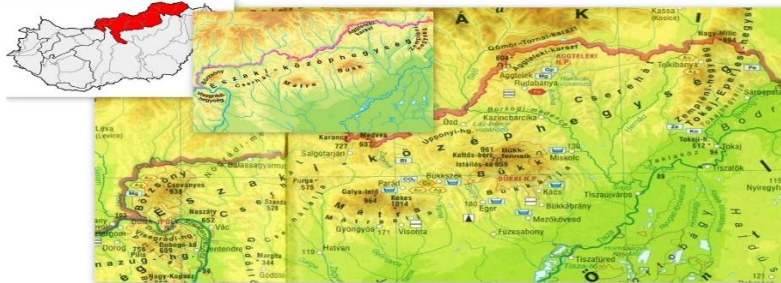
_____.

_____.

Ktorú krajinu by ste mohli z Kékešu navštíviť, ak by ste mali voľný čas?

_____.

4. Nájdi na mape časti Severného stredohoria! Prečítaj ich! Označ začiatocné písmená vrchov do mapy!



<https://www.google.com/search?q=%C3%A9szaki+k%C3%B6z%C3%A9phegys%C3%A9g+t%C3%A9rk%C3%A9p&rlz>

Aké rieky tečú cez pohorie?

Sú to rieky: _____, brežné prítoky Tisy.

5. Usporiadaj slabiky do slov. Slová napíš správne na čiaru.

Se-né-ver stre-ho-rie- do _____

lasť-ob _____

žöň-Bör _____

hát-Čer _____

ra-Mát _____

Bu-vé-ko chy- vr _____

Zem-ske-plín chy- vr _____

6. Charakterizuj časti severného stredohoria. O ktorom je reč? Pomôže ti slovník.

Slovník

(Neznáme slová vypíš do slovníka.)

najzápadnejší,-á, -é - legnyugatibb

hornatý,-á, -é - hegyes, dombos

hornatá krajina - hegyes-dombos vidék

ohraničiť - elhatárol, körülzár

pohorie - hegység

Najzápadnejšia časť (pohorie) hornatej krajiny:
_____.

Toto pohorie ohraničujú rieky Hornád a Bodrog:
_____.

Nízke pohorie veľkých rozmerov: _____.

Tu sa nachádza najvyšší bod našej vlasti:
_____.

Druhé najvyššie pohorie Maďarska po Mátre.
_____.

7. Spojte správne obrázok názvami vrchov!



Zemplínské vrchy



Börzőň



Bukové vrchy



Mátra




Čerhát

RIEŠENIE

1. Fordítsd le a szöveget magyarra!

Az Északi-középhegység a legmagasabb vidékünk. Itt - a Mátrában – található hazánk legmagasabb pontja a Kékes, a tengerszint felett 1014 méterrel. Az Északi-középhegység részei: Börzsöny, Cserhát, Mátra, Bükk, Zempléni-hegység. A hegységet völgyek, medencék és folyók választják el egymástól. Területüket hatalmas kiterjedésű erdők borítják.

2. Melyik képhez tartozik a mondat? Írd be a képhez kapcsolódó mondatot.

	<p>Severné stredohorie je naša najvyššia oblasť.</p>
	<p>Ich územie pokrývajú lesy veľkých rozmerov.</p>
	<p>Časti Severného stredohoria sú: Böržöň, Čerhát, Máttra, Bukové vrchy a Zemplínske vrchy.</p>
	<p>Tu sa nachádza najvyšší vrch našej vlasti: Kékeš.</p>
	<p>Pohoria sú od seba oddelené dolinami, riek a panvami.</p>

3. Válaszolj a kérdésekre!

Najvyšší vrch Severné stredohoria je Kékeš.

Jeho výška je 1014 m.

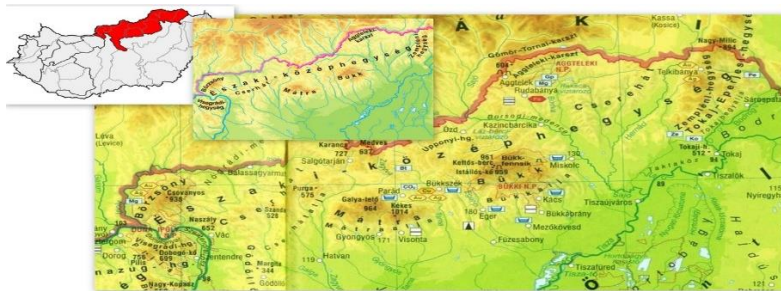
Najvyšší bod Maďarska sa nachádza v Mátre.

V Severnom stredohorí sa nachádzajú vrchy: Börzőň, Čerhát, Mátra, Bukové vrchy a Zemplínské vrchy.

Ktorú krajinu by ste mohli z Kékešu navštíviť, ak by ste mali len pár hodín voľný čas?

Z Kékeša mohli by sme cestovať na Slovensko.

4. Keresd meg a térképen az Északi-középhegység részeit! Olvasd fel őket! Írd be a térképbe a középhegység hegységeinek kezdőbetűit!



<https://www.google.com/search?q=%C3%A9szaki+k%C3%B6z%C3%A9phegys%C3%A9g+t%C3%A9r%C3%A9j&rlz>

Mely folyók folynak keresztül a középhegységen?

Sú to rieky: **Slaná, Hornád**, brežné prítoky Tisy.

5. Alkoss a szótagokból szavakat! A megfejtést írd a vonalra!

Se-né-ver	stre-ho-rie- do	<u>Severné stredohorie</u>
last'-ob		<u>oblast'</u>
žöň-Bör		<u>Börzőň</u>
hát-Čer		<u>Čerhát</u>
ra-Mát		<u>Mátra</u>
Bu-vé-ko	chy- vr	<u>Bukové vrchy</u>
Zem-ske-plín	chy- vr	<u>Zemplínske vrchy</u>

6. Jellemezzük az Északi – középhegységet! Mely hegységéről lehet szó? Segít a szótár!

Najzápadnejšia časť (pohorie) hornatej krajiny:	<u>Böržöň</u>
Toto pohorie ohraničujú rieky ho Hornád a Bodrog:	<u>Zemplínske vrchy</u>
Nízke pohorie veľkých rozmerov:	<u>Čerhát</u>
Tu sa nachádza najvyšší bod našej vlasti:	<u>Mátra</u>
Druhé najvyššie pohorie Maďarska po Mátre:	<u>Bukové vrchy</u>

7. Pomenujte obrázok! Prirad'te obrázky k zodpovedajúcim vetám!



Böržöň



Čerhát



Mátra



Zemplínsk vrchy



Bukové vrchy

Použitá literatúra

<https://www.google.com/search?q=%C3%A9szaki+k%C3%B6z%C3%A9phegys%C3%A9g&rlz> (sti.: 07. 12. 2020. 15:20)

<https://www.google.com/search?q=erd%C5%91&tbm> (sti.: 07. 12. 2020. 15:30)

<https://www.google.com/search?q=%C3%A9szaki+k%C3%B6z%C3%A9phegys%C3%A9g&tbm> (sti.: 07. 12. 2020. 15:35)

https://www.google.com/search?q=k%C3%A9kestet%C5%91&rlz=1C1GCEU_huHU822HU822&sxsrf (sti.: 07. 12. 2020. 16:11)

<https://www.google.com/search?q=hegyi+patak&tbm> (sti.: 07. 12. 2020. 16:25)

<https://www.google.com/search?q=b%C3%B6rs%C3%B6ny&rlz> (sti.: 07. 12. 2020. 15:30)

<https://www.google.com/search?q=cserh%C3%A1t&rlz> (sti.: 07. 12. 2020. 15:32)

<https://www.google.com/search?q=m%C3%A1tra&rlz> (sti.: 07. 12. 2020. 15:37)

<https://www.google.com/search?q=b%C3%B6kk&rlz> (sti.: 07. 12. 2020. 15:40)

<https://www.google.com/search?q=zempl%C3%A9ni+hegys%C3%A9g&rlz> (sti.: 07. 12. 2020. 15:48)

<https://www.google.com/search?q=turist%C3%A1k+a+hegyekben&tbm> (sti.: 07. 12. 2020. 15:54)

<https://www.google.com/search?q=%C3%A9szaki+k%C3%B6z%C3%A9phegys%C3%A9g&rlz> (sti.: 07. 12. 2020. 15:52)

<https://www.google.com/search?q=sport+a+hegyekben&tbm> (sti.: 07. 12. 2020. 16:10)

<https://www.google.com/search?q=turista+utak+a+hegyekben&tbm> (sti.: 07. 12. 2020. 16:25)

<https://www.google.com/search?q=t%C3%A9l&rlz> (sti.: 07. 12. 2020. 17:02)

<https://www.google.com/search?q=s%C3%ADfelvon%C3%B3+a+hegyekben&rlz> (sti.: 07. 12. 2020. 17:11)

<https://www.youtube.com/watch?v=GBTukSC81QI> (sti.: 07. 12. 2020. 17:50)