

NácviK čísloviek

3-4. trieda

Meno pedagóga	Csilla Mezeiová
Pracovisko	Slovenská národnostná základná škola Kálmána Mikszátha v Nízi 2618 Nézsa, Szondi u. 99.
Predmet	Slovenský jazyk
Tematický okruh	Číslovky
Trieda	3-4.
Výchovno-vzdelávací cieľ Kompetencie	-Matematické kompetencie -Komunikačné kompetencie -Jazykové kompetencie -Digitálne kompetencie
Použitá literatúra	https://www.google.com/search?sxsrf=ALeKk00LAebEhvhIAqoXw8DdET1oZpTbvw:1589751219801&source=univ&tbnm=isch&q=clipart&sa=X&ved=2ahUKEwjY5fLl7LvpAhUulosKHTBvBIAQsAR6BAGKEAE&biw=1366&bih=608 https://hu.pinterest.com/ https://zborovna.sk https://www.google.com/search?q=o+repe+postavicky&sxsrf=ALeKk023XIHMJOH6t5V3miU8rBnim9ZnYQ:1590396107667&tbnm=isch&source=iu&ictx=1&fir=JbvKzPcOSBd_bM%253A%252CoGIY6CUqZOO4SM%252C_&vet=1&usg=AI4_-kSo4O7_muK1snZ_-EubCHyntHAY7RA&sa=X&ved=2ahUKEwiRu7KYz87pAhXoosKHS8ZBa0Q9QEwAHoECAgQEw#imgrc=JbvKzPcOSBd_bM:

Úvod

„Učiteľom hodným tohto mena je ten, ktorý vzbudzuje ducha slobodného premýšľania a rozvíja cit osobnej zodpovednosti.”
(Ján Amos Komenský)

Milé kolegyně, milí kolegovia!

Pripravila som pre vás niekoľko úloh (pracovné listy), ktoré vám dajú nápady a pomôžu osvojiť číslovky na hodinách slovenského jazyka. Cieľom mojej práce je poskytnúť učiteľom návod na zoznámenie sa ohybným slovným druhom, a to číslovkami, pomocou rôznych úloh. Pracovné listy môžete používať v rôznych učebných osnovách. Texty a slová sú vhodné nielen na precvičovanie čísloviek, ale aj na cvičný diktát. Obrázky môžu pomôcť rozvíjať slovnú zásobu. Všetky úlohy sú koncipované tak, aby pomohli žiakom zábavnou formou si osvojiť učebnú látku. Dajú možnosť na precvičovanie a upevňovanie učiva. Pracovné listy sú vhodné na použitie aj v digitálnom vzdelávaní.

Prajem Vám dobrú prácu!

Csilla Mezeiová
meno pedagóga

1. Odpovedz na otázky! Napíš vhodné slovo alebo číslom číslovku na čiaru! Dávaj pozor na pravopis!

Kto je prvý? Koľko dievčat vidíš?

Na koľkých obrázkoch
je modrá farba? Koľká je v poradí lavica?

Koľko kníh vidíš? Koľko dievčat má dlhé vlasy?

Koľko nôh majú
postavičky spolu? Kto je piaty?

**2. Uvedené čísla napíš písmenami do rámčeka!**

23.

52

31.







85



3. Nasledujúce čísla napíš číslicami! Dávaj pozor na pravopis!

sedemdesiaty ôsmy	<input type="text"/>	tridsaťštyri	<input type="text"/>
sto	<input type="text"/>	osemdesiaty siedmy	<input type="text"/>
štyridsiata šiesta	<input type="text"/>	tridsaťpäť	<input type="text"/>
pätnásť	<input type="text"/>	deväťdesiatsedem	<input type="text"/>

4. Koľko stojí nasledujúce výrobky? Napíš do rámečkov písmenami ich cenu!
Dávaj pozor na pravopis!

					
120,-	155,-	320,-	500,-	410,-	250,-

5. Ideš nakupovať, dostal/a si sedemstoosemdesiatpäť forintov. Čo všetko môžeš nakúpiť z predošlej úlohy uvedených výrobkov? Odpovedz celou vetou!

Príklad: Môžem si kúpiť žltý kvietok/ jednu slnečnicu a zelené vedro na polievanie.

1
2
3

6. Napíš medzi číslami bodky tak, aby vznikli dátumy!

0 2 0 5 2 0 2 0	0 8 1 2 1 9 6 8	1 2 0 8 2 0 1 1	2 8 1 0 1 9 3 8
-----------------	-----------------	-----------------	-----------------

7. Podčiarkni chyby v texte a napíš celé vety správne na čiary! Vo vetách uvedené čísla napíš písmenami! Dávaj pozor na pravopis!

Rok má 365 dní. Jeden rok má 4 ročné obdobia a 12. mesiacov. Každý mesiac má 4 týždne. Marec je 3 mesiac v roku. Týždeň má 7. dní. 1 deň je pondelok a 7 deň je nedeľa. jeden školský rok trvá 10. mesiacov.

8. V tabuľke uvedené základné číslovky vyfarbi červenou ceruzkou a radové číslovky modrou ceruzkou!

tretie miesto	siedmy deň	druhý dom
jedna lopta	desiaty oblok	tridsať rokov
ôsmy chlapec	prvá hra	štyri týždne
deviaty bežec	šesť mačiek	deväť forintov
šiesty rok	desiaty cent	dvanásť mesačikov

9. Z nasledujúcich písmen počas 2 minút napíš do rámčeka čo najviac čísloviek písmenami! Písmenká môžeš viackrát použiť!

S E R U Ť Í H Ý Š P E O T A Ä T R I
S S Ť V D S T D M A Ť O S R D E Ä

10. Podčiarkni v rámečku chybně napísanú číslovku!

sto, peťdesiat, dvanásť

tri, osemdesiat, štiri

trietie, sto, trinásť

dvadsaťsedem, devetnásť, pätnásť

11. Zvieratká sa zúčastnia na športovom podujatí. Aké štartové čísla dostali? Napíš slovom do rámečku ich štartové číslo! Dávaj pozor na pravopis!

a.)

6



13



24



32



9



12




18



20



b.) Podľa obrázku doplň do viet písmenami číslovky!



Na mieste sa umiestnilo zvieratko číslom

Na mieste končilo zvieratko číslom

..... miesto získalo zvieratko číslom

Z Á B A V N Á Ú L O H A

(pre žiakov 4. triedy)

Keď doplníš písmeno správnej odpovede rad-radom do rámečkov nájdeš vyriešenie úlohy!

1.	2.	3.	4.	5.	6.	7.	8.	9.	10.

1. Základná číslovka je

- P) piaty
- S) sedem
- R) ôsmy

2. Radová číslovka je

- O) dvanásť
- P) tridsaťjeden
- Q) štyri

3. Ktorá číslovka je napísaná zle?

- L) pätnásť
- M) pet'desiat
- N) dvadsaťosem

4. Ktorá číslovka je správne napísaná?

- S) 8. žiačka - osem žiačka
- Š) 1. miesto - prvé miesto
- R) 16 ruží - šest'násty ruží

5. Mesiac MÁJ je koľký mesiac v roku?

- I) piaty
- J) siedmy
- K) deviaty

6. Vypočítaj! Ktoré je správne?

- J) dva a dva sú osem
- K) osem mínus tri je päť
- L) jeden a jeden je šesť

7. Ktoré číslovky nie sú základne číslovky?

- M) pätnásť, dva, šesť
- O) pätnásty, druhý, šiesty
- P) tri, odem, jedenásť

8. Do ktorej triedy chodíš?

- U) Chodím do piatej triedy.
- V) Chodím do štvrtej triedy.
- Z) Chodím do prvej triedy.

9. Ako napíšeš správne?

- L) Mám devet' rokov.
- M) Mám deviaty rokov.
- N) Mám deväť rokov.

10. Koľko chýb je v nasledujúcej vete?

Rok má 4. ročné obdobia a 12. mesiacov.

- Ý/Á) 2 chyby
- Y/Ý) 3 chyby
- I/Í) 4 chýb

RIEŠENIE - číslovky

1. Odpovedz na otázky! Napíš vhodné slovo alebo číslom číslovku na čiaru! Dávaj pozor na pravopis!

Kto je prvý? PES

Koľko dievčat vidíš? 2

Na koľkých obrázkoch
je modrá farba? 5

Koľká je v poradí lavica? 2.

Koľko kníh vidíš? 3

Koľko dievčat má dlhé vlasy? 2

Koľko nôh majú
postavičky spolu? 14

Kto je piaty? VTÁK/ VTÁČIK



2. Uvedené čísla napíš písmenami do rámčeka!



23.

dvadsiaty tretí

52

päťdesiatdva

31.

tridsiaty prvý

85







osemdesiatpäť



3. Nasledujúce čísla napíš číslicami! Dávaj pozor na pravopis!

sedemdesiaty ôsmy	78.	tridsaťštyri	34
sto	100	osemdesiaty siedmy	87.
štyridsiata šiesta	46	tridsaťpäť	35
pätnásť	15	deväťdesiatsedem	97

**4. Koľko stoja nasledujúce výrobky? Napíš do rámečkov písmenami ich cenu!
Dávaj pozor na pravopis!**

					
120,-	155,-	320,-	500,-	410,-	250,-
stodvadsať	stopäťdesiatpäť	tristodvadsať	päťsto	štyristodesať	dvestopäťdes

5. Ideš nakupovať, dostal/a si sedemstoosemdesiatpäť forintov. Čo všetko môžeš nakúpiť z predošlej úlohy uvedených výrobkov? Odpovedz celou vetou!

Príklad: Môžem si kúpiť žltý kvietok/ jednu slnečnicu a zelené vedro na polievanie.

- 1) Môžem si kúpiť knihu a farebné ceruzky.
- 2) Môžem si kúpiť pizzu, uhorky a kvietok.
- 3) Môžem si kúpiť zelené vedro a kus pizze.

6. Napíš medzi číslami bodky tak, aby vznikli dátumy!

02.05.2020

08.12.1968

12.08.2011

28.10.1938

7. Podčiarkni chyby v texte a napíš celé vety správne na čiary! Vo vetách uvedené čísla napíš písmenami! Dávaj pozor na pravopis!

Rok má 365 dní. Jeden rok má 4 ročné obdobia a 12. mesiacov. Každý mesiac má 4 týždne. Marec je 3 mesiac v roku. Týždeň má 7. dní. 1 deň je pondelok a 7 deň je nedeľa. Jeden školský rok trvá 10. mesiacov.

Rok má tristošesťdesiatpäť dní. Jeden rok má štyri ročné obdobia dvanásť mesiacov.

Každý mesiac má štyri týždne. Marec je tretí mesiac v roku. Týždeň má sedem dní. Prvý deň je pondelok a siedmy deň je nedeľa. Jeden školský rok trvá desať mesiacov.

8. V tabuľke uvedené základné číslovky vyfarbi červenou ceruzkou a radové číslovky modrou ceruzkou!

tretie miesto	siedmy deň	druhý dom
jedna lopta	desiaty oblok	tridsať rokov
ôsmy chlapec	prvá hra	štyri týždne
deviaty bežec	šesť mačiek	deväť forintov
šiesty rok	desiaty cent	dvanásť mesačikov

9. Z nasledujúcich písmen počas 2 minút napíš do rámčeka čo najviac čísloviek písmenami! Písmenká môžeš viackrát použiť!

S E R U Ť Í H Ý Š P E O T A Ä T R I
S S Ť V D S T D M A Ť O S R D E Ä

päť, deväť, sto, štyri, tri, osem

päťsto, sedem, šesť, dvadsať atď.

10. Podčiarkni v rámečku chybné napísané čísloku!sto, pet'desiat, dvanásťtri, osemdesiat, štiritrietie, sto, trinásťdvadsaťsedem, devetnásta, pätnásť11. Zvieratká sa zúčastnia na športovom podujatí. Aké štartové čísla dostali? Napíš slovom do rámečku ich štartové číslo! Dávaj pozor na pravopis!

a.)

6



šesť

13



trinásť

24



dvadsaťštyri

32



tridsaťdva

9



deväť

12



dvanásť

18




osemnásť

20



dvadsať

b.) Podľa obrázku doplň do viet písmenami číslovky!



Na **PRVOM** mieste sa umiestnilo zvieratko číslom **ŠEŠŤ**.

Na **DRUHOM** mieste končilo zvieratko číslom **DVADSAŤ**.

TRETIE miesto získalo zvieratko číslom **TRIDSAŤDVA**.

Z Á B A V N Á Ú L O H A

(pre žiakov 4. triedy)

Keď doplníš písmeno správnej odpovede rad-radom do rámečkov nájdeš vyriešenie úlohy!

S	O	M	Š	I	K	O	V	N	Ý/Á
1.	2.	3.	4.	5.	6.	7.	8.	9.	10.

1. Základná číslovka je

- P) piaty
- S) **sedem**
- R) ôsmy

2. Radová číslovka je

- O) **dvanásty**
- P) tridsaťjeden
- Q) stoštyri

3. Ktorá číslovka je napísaná zle?

- L) pätnásť
- M) peťdesiat**
- N) dvadsaťosem

4. Ktorá číslovka je správne napísaná?

- S) 8. žiačka - osem žiačka
- Š) 1. miesto - prvé miesto**
- R) 16 ruží - šest'násty ruží

5. Mesiac MÁJ je koľký mesiac v roku?

- I) piaty**
- J) siedmy
- K) deviaty

6. Vypočítaj! Ktoré je správne?

- J) dva a dva sú osem
- K) osem mínus tri je päť**
- L) jeden a jeden je šesť

7. Ktoré číslovky nie sú základne číslovky?

- M) pätnásť, dva, šesť
- O) pätnásty, druhý, šiesty**
- P) tri, odem, jedenásť

8. Do ktorej triedy chodíš?

- U) Chodím do piatej triedy.
- V) Chodím do štvrtej triedy.**
- Z) Chodím do prvej triedy.

9. Ako napíšeš správne?

- L) Mám devet' rokov.
- M) Mám deviaty rokov.
- N) Mám deväť rokov.**

10. Koľko chýb je v nasledujúcej vete?

Rok má 4. ročné obdobia a 12. mesiacov.

- Ý/Á) 2 chyby**
- Y/Ý) 3 chyby
- I/Í) 4 chýb