

ÉRETTSÉGI VIZSGA • 2010. október 26.

BELÜGYI RENDÉSZETI ISMERETEK

KÖZÉPSZINTŰ ÍRÁSBELI VIZSGA

2010. október 26. 14:00

Az írásbeli vizsga időtartama: 120 perc

Pótlapok száma	
Tisztázati	
Piszkozati	

NEMZETI ERŐFORRÁS MINISZTERIUM

Fontos tudnivalók

Válaszai legyenek lényegre törők, ne lépje túl a rendelkezésére álló helyet!

Törekedjék egyértelműsége mind a válaszok, mind a javítások esetében.

Kérjük, kék színű tollat használjon!

A feladatok megoldásakor tartsa szem előtt az alábbi javaslatokat:

- Olvassa el figyelmesen a feladatokat!
- Kövesse pontosan az utasításokat!
- Válaszait alapos mérlegelés után, lehetőleg javítás nélkül írja le! Ha mégis javítani szándékozik, kérjük a rossz megoldást egy vonallal húzza át, és írja be a jó választ! A nem egyértelmű javításokat nem fogadjuk el!

A szöveges, kifejtendő feladatok kidolgozásakor javasoljuk, hogy a megadott szempontok sorrendjében fogalmazza meg a választát. Ügyeljen a szakkifejezések használatára, fogalmazzon szabatosan, nyelvtanilag helyesen, figyeljen a helyesírásra is!

A szöveges, kifejtendő feladatok javításakor figyelembe vesszük:

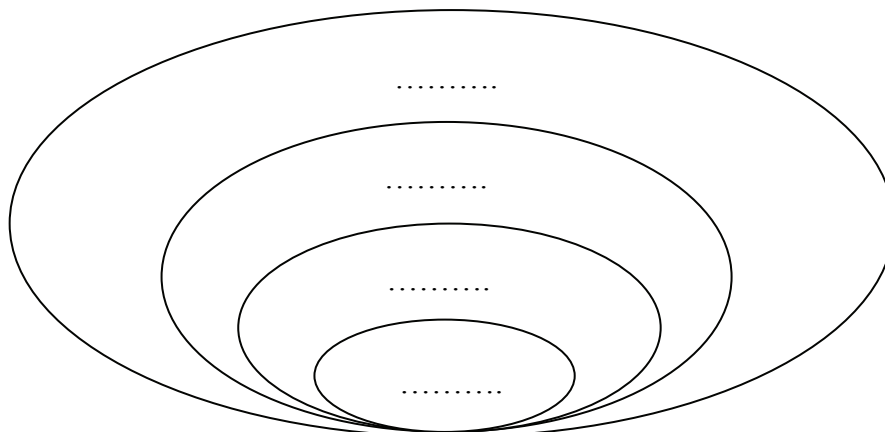
- a feladat megértését, a helyes feladatmegoldást,
- a tartalmi követelményeknek való megfelelést,
- a válasz logikusságát, megszerkesztettségét,
- a nyelvhelyességet.

Eredményes munkát kívánunk!

I. Egyszerű, rövid választ igénylő feladatok

1. Mutassa be a rendészet alábbi alapfogalmai közötti kapcsolatrendszert, a fogalmak betűjelének az ábrába való beírásával! *A megadott fogalom betűjelét írja be a kipontozott helyre!*

A: közrend **B:** társadalmi rend **C:** határrend **D:** jogi rend



4 pont	
--------	--

2. Válassza ki és karikázza be a megfelelő választ az alábbi kérdések esetében! *Figyeljen arra, hogy minden kérdésnél csak egy jó válasz lehetséges!*

A. Az alábbi jogszabályok közül melyik határozza meg a rendészeti szervek hivatásos állományú tagjainak szolgálati jogviszonyát?

- 1) 1949. évi XX. törvény
- 2) 218/1999. (XII. 28.) kormányrendelet
- 3) 1994. évi XXXIV. törvény
- 4) 1996. évi XLIII. törvény

B. Melyik rendészeti szerv tartozik a Pénzügyminisztérium irányítása alá?

- 1) Rendőrség
- 2) Büntetés-végrehajtási szervezet
- 3) Vám- és Pénzügyőrség
- 4) Katasztrófavédelmi szervezet

C. Melyik a Rendőrség meghatározása az alábbiak közül?

- 1) A Rendőrség államhatalmi, államigazgatási szerv.
- 2) A Rendőrség fegyveres rendészeti szerv.
- 3) A Rendőrség fegyveres bűnüldöző szervezet.

D. Milyen szintű jogszabály tartalmazza a rendőri intézkedések gyakorlati végrehajtásával kapcsolatos szabályokat?

- 1) törvény
- 2) kormányrendelet
- 3) miniszteri rendelet

E. Az alábbi jogszabályok közül melyik vonatkozik a tűzvédelmi feladatok ellátására?

- 1) Az 1999. évi LXXIV. törvény.
- 2) Az 1996. évi XXXI. törvény.
- 3) Az 1996. évi XXXVII. törvény.

5 pont	
--------	--

3. Párosítsa össze a megadott fogalmak betűjelzését a megfelelő definíció sorszámaival! *A fogalompárokot írja a táblázat alatt található kipontozott helyekre! Egyet könnyítésül megadtunk.*

Fogalom		Definíció	
A.	Bűnügyi szolgálati ág	1.	<i>Titkársági, adat- és titokvédelmi, ügykezelési, minőségügyi és innovációs, jogi és sajtótevékenységgel kapcsolatos feladatok ellátása tartozik ide.</i>
B.	Repülőtéri rendőri szolgálat	2.	<i>Feladata a bűncselekmények megelőzése, felderítése, általános nyomozóhatósági feladatok ellátása.</i>
C.	Ügyeleti szolgálat	3.	<i>Feladata a határforgalom ellenőrzése, a határőrizet, határvédelem, a Magyar Köztársaság területére történő ki- és beléptetés ellenőrzése.</i>
D.	Határrendészeti szolgálati ág	4.	<i>Koordinálja a szolgálatban lévő rendőri állomány tevékenységét, fogadja a rendőri szervhez érkező bejelentéseket, panaszokat, intézkedik az azokkal kapcsolatos azonnali feladatok végrehajtására.</i>
E.	Igazgatásrendészeti szolgálati ág	5.	<i>Feladata a Rendőrség hatáskörébe utalt szabálysértési eljárások lefolytatása, engedélyügyek elbírálása, egyes rendészeti feladatok ellátása.</i>
F.	Hivatali szolgálat	6.	<i>Tagjai a Ferihegyi Nemzetközi Repülőtéren látják el szolgálati feladataikat a közrend, közbiztonság fenntartása érdekében.</i>

A - 2 ; B - ; C - ; D - ; E - ; F -

5 pont	
--------	--

4. Melyik állítás igaz és melyik hamis az alábbiak közül? Írjon „x”-et az egyik oszlopba annak megfelelően, hogy Ön szerint igaz vagy hamis az adott meghatározás!

Állítások	Igaz	Hamis
A katasztrófavédelem szakmai tevékenysége három egymástól jól elkülöníthető szakmai tevékenységi területre bontható: katasztrófavédelem, tűzvédelem és polgári védelem.		
A katasztrófavédelem tevékenységét a Katasztrófavédelmi Főigazgatóság vezetőjén keresztül az belügyminiszter végzi.		
A tűzvédelem erői szervezetszerű és bevonható erőkre tagolhatók. A szervezetszerű erőket a Rendőrséghez hasonlóan hivatásos állományúak, közalkalmazottak és köztisztviselők alkotják.		
A polgári védelem feladata elsősorban minősített időszakban, illetve háborús helyzetben a lakosság megóvása, túlélő képességének fokozás és a hátszázvédelmi feladatok ellátása.		
A katasztrófavédelem központi szerve az Országos Polgári-védelmi Főigazgatóság, melynek élén a főigazgató áll.		
A katasztrófavédelem területi szerveit a Katasztrófavédelmi Igazgatóságok alkotják, melyek közvetlenül irányítják a hivatásos önkormányzati tűzoltóságok tevékenységét.		
Minden nagykorú magyar állampolgár kötelezhető minősített időszakban bizonyos védelmi tevékenység ellátására a vonatkozó törvényi előírások szerint.		
Minősített időszakban rendeleti úton is szabályozható a katasztrófavédelem működése és tevékenysége.		

8 pont

5. Aláhúzással jelölje az alábbi kérdésekre vonatkozó egyetlen helyes állítást!

a. Az emberölés mely minősített esetét valósítja meg az, aki féltékenységből öl?

Más aljas indokból vagy célból. / Erős felindulásban.

b. A testi sértés mely esetében köti az elkövető felelősségre vonását magánindítványhoz a jogalkotó?

Könnyű testi sértés. / Súlyos testi sértés.

c. Lehet-e kísérlete a segítségnyújtás elmulasztása bűncselekménynek?

Igen. / Nem.

d. Az italfogyasztás hatására milyen állapotban kell lennie a gépi meghajtású közúti jármű vezetőjének ahhoz, hogy bűncselekményt valósítson meg?

Befolyásolt állapotban. / Bódult állapotban.

e. Milyen bűnösséggel valósítható meg a közúti baleset okozás vétsége?

Csak gondatlan bűnösséggel. / Csak szándékos bűnösséggel. / Szándékosan és gondatlanul is.

f. Ki lehet a bántalmazás hivatalos eljárásban bűncselekmény elkövetője?

Bárki, általános alanya van. / Hivatalos személy. / Csak rendőr.

g. Milyen célból alkalmaz erőszakot vagy fenyegetést a kényszervallatás elkövetője?

A kényszervallatás nem célzatos bűncselekmény. / Azért, hogy más vallomást vagy nyilatkozatot tegyen, illetőleg ne tegyen.

h. Milyen vagyon elleni bűncselekményt valósít meg az, aki idegen dolgot erőszak alkalmazásával vesz el mástól?

Kifosztást. / Zsarolást. / Rablást.

i. Milyennek kell lennie a garázdaság bűncselekmény elkövetési magatartásának?

Közösségellenesnek. / Erőszakosnak. / Mindkettő együtt.

j. Ki lehet a cserbenhagyás bűncselekmény elkövetője?

Bárki, általános alanya van. / Csak balesettel érintett jármű vezetője. / Csak a balesetet okozó jármű vezetője.

10 pont	
---------	--

6. Tanulmányozza figyelmesen a képeket, és válaszoljon röviden a mellettük található kérdésekre!



A. Milyen kötés felhelyezését gyakorolják a képen látható gyerekek?


.....

B. Milyen művelet végrehajtását végzi a képen bal oldalt látható tanuló?

.....

C. A jobb oldali tanuló milyen művelet végrehajtásához készül?

.....



D. Mi okoz sérülést a karikatúrán?

.....

E. Milyen látható elváltozás keletkezhet a bőrfelületen a sérülés következtében?

.....

5 pont	
--------	--

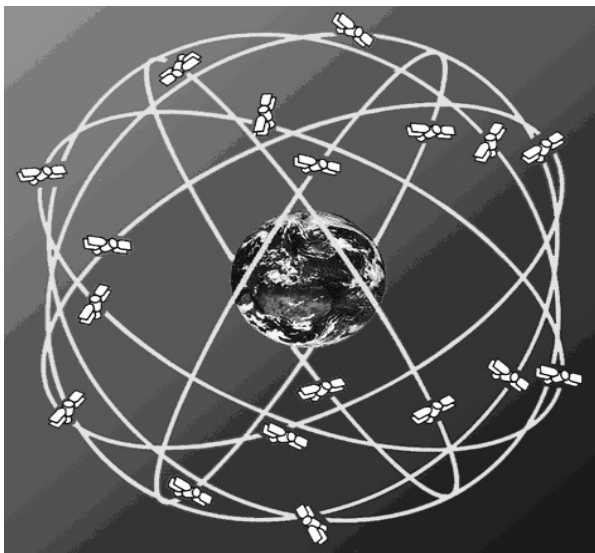
7. Figyelje meg a képeket, és válassza ki a helyes állításokat! Az A és C kérdésnél két-két, a B kérdésnél egy jó válaszlelem van!

A.



1. A képen részben fedett terep figyelhető meg.
2. A kép valójában nyílt terepről készült, mivel a kilátás szinte akadálytalan.
3. Domborzat szempontjából sík terepet láthatunk a képen.
4. Domborzat szempontjából hegyes terepet ábrázol a kép.
5. A kép egy túlevelű erdővel fedett dombon készült.

B.



1. A Föld körül keringő műholdak mindegyike sugároz olyan rádiójeleket, melyek alapján GPS műszerrel meghatározható pillanatnyi helyzetünk.
2. A Föld körül, meghatározott pont felett „lebegő” – a Földdel azonos szögsebességgel mozgó – műholdak rádiójelei alapján GPS műszerrel meghatározható pillanatnyi helyzetünk.
3. A pontos helymeghatározáshoz már egy műhold által sugárzott jel is elégséges.

C.

$$T = \frac{M}{V} \cdot 1000$$

Ahol:
T = a meghatározandó távolság kilométerben;
M = a tárgy valós mérete (magasság, szélesség, hosszúság) méterben;
V = a tárgy vonásban mért nagysága;
1000 = egy állandó szám.

1. A képen a távolság lépésben történő meghatározásához alkalmazható vonásképlet látható.
2. A képen a távolság tájoló segítségével történő meghatározásához alkalmazható vonásképlet látható.
3. A képen a távolság távcső segítségével történő meghatározásához alkalmazható vonásképlet látható.
4. A képlet alkalmazásához szükség van egy ismert méretű, a terepen megfelelően azonosított tereptárgyra.

5 pont	
--------	--

8. Olvassa el a meghatározást, és a vastagon szedett válaszlemek közül válassza ki, majd aláhúzással jelölje a megfelelőt! *Figyeljen arra, hogy minden kérdésnél csak egy jó válasz lehetséges!*
- a. A **{szükségesség elve / arányosság elve / fokozatosság elve}** azt jelenti, hogy a rendőri intézkedés, illetve a kényszerítő eszközök alkalmazása nem járhat súlyosabb következménnyel, mint aminek elhárítására a rendőr törekedett.
 - b. A **{körözés / igazoltatás}** célja, az intézkedés alá vont személy személyi adatainak megállapítása, és a személyazonosság megállapítása.
 - c. **{Előállítást / elővezetést / őrizetbe vételt}** kell alkalmazni azzal a személlyel szemben, akit a rendőr elfogott.
 - d. Az előállítás időtartama **{legfeljebb 8 óra / legfeljebb 72 óra}** lehet, mely további 4 órával meghosszabbítható, ezután az intézkedés alá vont személy személyes szabadságának további korlátozására – az őrizetbe vétel esetét kivéve – nem kerülhet sor.
 - e. Lőfegyverhasználatnak csak **{a célzott / személyre, állatra, illetőleg tárgyra leadott / személyre szándékosan leadott}** lövés minősül.
 - f. Ön- és közveszélyes állapotban lévő személy személyes szabadságának korlátozására csak **{őrizetbe vétel / kényszergyógykezelés / biztonsági intézkedés}** keretében kerülhet sor.
 - g. A rendőr **{testi kényszert / vegyi eszközt / lőfegyvert}** alkalmazhat a személye ellen intézett támadás elhárítása érdekében.
 - h. Az alkalmazás súlyosságát tekintve egyenlőnek kell tekinteni a **{vízagyú / útzár / testi kényszer}** és a szolgálati kutya pórázon, szájkosárral történő alkalmazását.
 - i. A rendőr a **{helyszínbiztosítás / közlekedésrendészeti intézkedés / fokozott ellenőrzés}** során a forgalmat irányíthatja, elterelheti, a közlekedésben résztvevő járműveket, azok vezetőit, a járművek és járművezetők menetokmányait ellenőrzés alá vonhatja.
 - j. A rendőr az észlelt szabálysértés esetén, ha a jogszabály másként nem rendelkezik **{figyelmeztetést alkalmaz / feljelentést tesz / helyszíni bírságot alkalmaz}**.

10 pont	
---------	--

9. Találja meg, hogy a felsorolt fogalmak közül melyik a kakukktójás! Karikázza be a helytelen állítás betűjelét! *Figyeljen arra, hogy minden kérdésnél csak egy jó válasz lehetséges!*
- a. Milyen elemekből áll a hivatásos állományt megillető éves szabadság?
 - 1) alapszabadság
 - 2) pótszabadság
 - 3) rendkívüli szabadság
 - b. Milyen elemekből épül fel a hivatásos állomány tagjainak alapilletménye?
 - 1) illetményalap
 - 2) rendfokozati illetmény
 - 3) beosztási illetmény

c. Melyek főtishti rendfokozatok?

- 1) őrnagy
- 2) alezredes
- 3) vezérezredes

d. Milyen kötelező kiegészítő elemei vannak a hivatásos állományúak szolgálati öltözetének?

- 1) rendfokozati jelzés (váll-lap)
- 2) nyakkendő
- 3) névkitűző

4 pont	
--------	--

10. Figyelje meg a képet, és válaszoljon röviden a feltett kérdésekre!



(Forrás: www.hir6.hu)

a. Milyen alaki mozgásmód figyelhető meg a képen?

.....

b. Milyen alegység látható a felvételen?

.....

c. Az öltözet mely kiegészítői jelzik az alkalom ünnepélyes jellegét? Nevezzen meg kettőt ezek közül!

.....

.....

4 pont	
--------	--

II. Szöveges, kifejtendő feladatok

- 11.** Olvassa el Móricz Zsigmond: Barbárok című novellájának alábbi részletét, és a megadott jogszabály segítségével elemezze a történetet büntetőjogi szempontból! Válaszában térjen ki a megadott szempontokra! (Elérhető 20 pont)

„...Jósokára volt, mikor a két szamaras juhászt ki lehetett venni, ahogy a leégett pusztán közeledtek. ... Mikor a két vendég ideért a nyáj közelébe, a komondorok összeverekedtek a jövény kutyákkal, egybekeveredtek s a földön mardosták egymást. ...Az egyik vendég már a földön volt és hosszú kacszázó léptekkel közeledett.

- Aggyon Isten.

- Fogaggy Isten.

Felállott a becsület kedvéért, pedig a vendég nem érdemelte a megbecsülést, mert rosszakarója volt. Hallotta a múltkor is a csárdában, hogy azt mondta, hogy az ő nyája a pusztá betyárja. Mér mond ilyet. Mikor neki módja van, hogy arra legeltessen, ahová csak szegődése engedi? De hát nem mutatja meg az ember mindjárt, hogy mit érez és mit gondol. Kezet fogott velük és azt mondta:

- Szájj le tésis.

Erre a másik juhász is leszállott a samarról s a két csacsit kicsapták. ... A két juhász levette a samaráról a bundát, ők is leterítették a kiégett földre s ráheveredtek.

...A nagy nyáj messzebb járt, a kistattyú volt vele. A juhász kistfia, olyan tizenkét esztendősi sihederke, csak egy nagy kalap, meg egy kis szűr, ennyi volt az egész gyerek, meg egy kis kíváncsiság. ...

Most mán a gyerek is itt állott. Csak állott a görbe kampójára támaszkodva, és szóltanul nézte a vendégeket. ... Mán lassan lefelé konyult a nap. ...A vendéglátó gazda csak egyszer pillantott körül, akkor is úgy tett, mintha a nyáj után nézne, pedig azt nézte, hogy a botja kezügybe van-e?

- Hallod.

- No.

- Van neked egy szíjad?

- Van.

- Láttam tavaly búcsúkor, ki van verve rézzel.

- Megvan.

- Aztat kéne eladni.

- Eladni?

- El.

- Nem eladó. ...

Evvel újra tovább ültek. Aztán már egészen setét lett. Olyan hirtelen lett setét, mintha elfújták volna a gyertyát.

- Hát nem adod el?

- Mondtam.

Erre a nagyobbik juhász vette a botját, csendesen közelebb húzta magához, mintha fel akarna állani. A gazdajuhász meg se moccant, lesett, mint a komondor, de résen volt.

- Ez az utolsó szavad?

De mán akkor a gazda ugrott is felfelé. A másik kettő meg rá. Egy, kettő, csattantak a botok. Előbb a két bot az egy boton, azután az egyik bot a gazda fején. Az megtántorodott.

- Ezír gyüttetek?

Nem szólhatott többet, a két vadember ráhajtott, és egy perc alatt agyonra verték. Ott feküdt a juhász a földön s még akkor is vágtak egyet-egyét rajta. A kisfiú ott volt mellettük, s csak nézett. Olyan hirtelen esett a dolog, hogy meg se moccanhatott.

- Vedd le az apád szíját - mondta neki a veres ember.

A fiú állott.

- Veszed le rögtön?

A gyerek halálsápadtan és az embereket szemmel tartva, odament az apjához, s annak a derekáról leoldotta a szíját.

- Add ide.

A gyerek a szíjat felemelte, és nézte, hogy melyiknek adja oda. Csak nézett, s nem vette észre, hogy az egyik bot a levegőbe emelkedett és fején érte. Olyan sújtást kapott, hogy abba a percbe leesett s kiadta a lelkét.

A négy kutya, mintha nem értette-volna a dolgot, csak most jött észbe. A két komondor neki-esett a másik kettőnek, s torkon kapta egymást és hempergett. ... A két ember állva, botra támaszkodva várta el, míg a kutyáik végeztek, s mikor azok véresen és sebeiket nyalogatva a közelbe jöttek, akkor azt mondta a veres juhász:

- Kaparjatok.

A két kutya hozzáfogott kaparni. Gödröt. De lassan ment. Erre az emberek elővették a számár hátáról a kurta nyelvű ásót, és segítettek nekik. Hogy a gödör megvót, a kisebb juhász fogta a gyereket, beletette. De az ember mégis nagy vót.

- Ott a szíj.

Rákötötte a nyakára, avval húzta bele. Mire a hold feljött, akkorra be volt kaparva a vendéglátó gazda fiastól és három kutyájával. Tüzet raktak a sírra ganéból, s megsütötték a szalonájukat. Jóízűen megvacsoráztak.

- No e megvan - mondta a veres juhász -, akkor ballagjunk.

Megindította a nyáját, a háromszáz juh elindult a pusztán, de nehezen indult meg, mert már szerettek volna éccakázni. Nem értették, hogy mért kell éhomra tovább sétálni a nagyságos pusztán. De ha kell, csak mentek. Utánuk ballagdogált a négy számár, meg a két sebesült komondor. A két juhász nyugalmasan lépdelt megettük."

Emberölés

166. § (1) Aki mást megöl, büntetést követ el, és öt évtől tizenöt évig terjedő szabadságvesztéssel büntetendő.

(2) A büntetés tíz évtől húsz évig terjedő, vagy életfogytig tartó szabadságvesztés, ha az emberölést

- a) előre kitervelten,
- b) nyereségvágyból vagy
- c) más aljas indokból, illetőleg célból,
- d) különös kegyetlenséggel,
- e) hivatalos személy vagy külföldi hivatalos személy ellen, hivatalos eljárása alatt, illetőleg emiatt, közfeladatot ellátó személy ellen, e feladatának teljesítése során, továbbá a hivatalos, a külföldi hivatalos vagy a közfeladatot ellátó személy támogatására vagy védelmére kelt személy ellen,
- f) több emberen,
- g) sok ember életét veszélyeztetve,
- h) különös visszaesőként,
- i) tizennegyedik életévét be nem töltött személy ellen,
- j) védekezésre képtelen személy sérelmére követik el.

- 12.** Az alábbi forrás elemzésével mutassa be a rendészeti szervek katasztrófavédelmi tevékenységének komplex rendszerét, emelje ki az együttműködés során végrehajtandó feladatokat! A válasz megfogalmazása során vegye figyelembe a megadott szempontokat! *(Elérhető 20 pont)*

Az egyik budapesti bevásárlóközpontban kigyulladt egy tapétaüzlet, amelyet ötven tűzoltónak háromnegyed óra alatt sikerült csak eloltania. A hatalmas füst miatt több vásárlót és eladót kellett kimenteni.

Mindez csak egy tűzoltási és mentési gyakorlat volt, amelyet szerda délelőtt a bevásárlóközpontot üzemeltető cég és a Fővárosi Tűzoltó-parancsnokság tartott. A riasztástól számított nyolc percen belül érnek ki az első tűzoltók, addig több ezer ember élete az ott dolgozó személyzet fellépésén múlik. Ilyen nagy tömeg nem tudja segítség nélkül elhagyni az épületet, a biztonsági szolgálatnak határozott fellépéssel kell a kijárat felé irányítani az embereket. A tűzvédelmi gyakorlatokat a törvény évente egyszer írja elő, ez a szám az Egyesült Államokban tizenkettő.

Lezárt vészkijáratok, szűk menekülési útvonalak

A fővárosi tűzoltóság rendszeresen tart ellenőrzéseket Budapest kétszázhetven épületében.

A Tűzmegeelőzési Osztály vezetője elmondta, a bevásárlóközpontokban többnyire lezárt vészkijáratokkal, valamint árusítóhelyekkel leszűkített menekülési útvonalakkal kell szembesülniük. Az üzletek tulajdonosai szívesen kerítik el a tűzcsapokat és falazzák be a tűzérzékelőket is. A tűzoltóság azonban pozitívan értékeli, hogy a cégek modern tűzvédelmi berendezésekkel szerelték fel az épületeket.



Profi tűzoltók, gyenge biztonsági szolgálat

A tűzoltási gyakorlatról elvileg az üzletek dolgozói és a vásárlók sem tudtak. Vásárlóból persze csak néhány lézengett, mert az üzletek nyitásáig még fél óra hátra volt. Miután hatalmas füst árasztotta el az épületet, a hangosbemondóból hiába vártunk egy határozott hangot, hogy mindenki hagyja el az épületet. „Valami tűzoltási gyakorlat lehet.” – mondja egy idősebb hölgy, akit a biztonsági őr kedvesen megkért, hogy egy rövid időre fáradjon ki az utcára. A hangszórókból persze még mindig zene szólt. A tűzoltók első egységei tíz percen belül megérkeztek, és légzőkészülékeikben megkezdtek a bent ragadt emberek kimenekítését. Elsőként a tapétaüzletben ragadt eladókat mentették ki, akikre légzőálcot raktak, hogy minél előbb friss levegőhöz juthassanak.



Két-három perces időközönként sorra érkeztek az újabb egységek, és a tűzoltók kisebb csapatokban rohantak be a füsttel teli épületbe. Sorra mentették ki az embereket, némelyüket csak ki kellett kísérni, de valakit hordágyon hoztak ki. Mivel a tűz a tetőre is átterjedt, ezért egy emelőkosárral emelkedtek a levegőbe, és hatalmas vízmennyiséget zúdítottak az épület

tetejére. A bevásárlóközpontban eddig a legnagyobb tüzeset 1999-ben volt, amikor kigyulladt egy üzlet. A lángokat azonban a tűzoltók kiérkezése előtt sikerült megfékezni, de az épületet ki kellett üríteni. /Forrás: www.index.hu alapján/

A feladat megoldásának szempontjai:

- **mely rendészeti szerv szakmai tevékenységéhez, és annak mely területéhez kapcsolódik a forrás;**
- **mi az ilyen jellegű gyakorlatok megszervezésének szerepe a rendészeti szervek szakmai tevékenységében;**
- **a gyakorlat során feltárt hiányosságok, ezek észlelése esetén teendő intézkedések;**
- **mely szervezeteknek kell együttműködni a feladat végrehajtása során;**
- **a létesítmény üzemeltetőjének kötelezettségei a katasztrófavédelemmel kapcsolatban.**

.....

.....

.....

.....

.....

.....

.....

.....

.....

.....

.....

.....

.....

.....

.....

.....

.....

.....

.....

.....

.....

.....

.....

.....

.....

.....

	maximális pontszám	elért pontszám
I. Egyszerű, rövid választ igénylő feladatok		
1) Mutassa be az alapfogalmak közötti kapcsolat-rendszert!	4	
2) Válassza ki és karikázza be a megfelelő választ!	5	
3) Párosítsa össze a fogalmak betűjelzését!	5	
4) Melyik állítás igaz és melyik hamis!	8	
5) Jelölje az alábbi kérdésekre vonatkozó helyes állítást!	10	
6) Tanulmányozza a képeket, és válaszoljon a kérdésekre!	5	
7) Figyelje meg a képeket, és válassza ki a helyes állításokat!	5	
8) Válassza ki, és aláhúzással jelölje a megfelelő meghatározást!	10	
9) Találja meg a kakukktojást!	4	
10) Figyelje meg a képet, és válaszoljon röviden a kérdésekre!	4	
I. Egyszerű, rövid választ igénylő feladatok összesen	60	
II. Szöveges, kifejtendő feladatok		
11) feladat	20	
12) feladat	20	
II. Szöveges, kifejtendő feladatok összesen	40	
Az írásbeli vizsgarész pontszáma	100	

javító tanár

Dátum:

	elért egészre kerekített pontszám	programba beírt egész pontszám
I. Egyszerű, rövid választ igénylő feladatok		
II. Szöveges, kifejtendő feladatok		

javító tanár

jegyző

Dátum:

Dátum: