

# MAGYAR NYELVI FELADATLAP

a 6. évfolyamosok számára

2011. január 27. 14:00 óra

NÉV: \_\_\_\_\_

SZÜLETÉSI ÉV:  HÓ:  NAP:

**Tollal dolgozz! Ügyelj a külalakra!**  
**A feladatokat tetszés szerinti sorrendben oldhatod meg.**  
**A megoldásra összesen 45 perced van.**  
**Az utolsó (10.) feladatra legalább 10–15 percet szánj!**

**Jó munkát kívánunk!**



a	
b	
c	

1. Egészítsd ki a szólásokat a minta alapján! Segítségül megadjuk a szólások jelentését.

**Minta:** Feltűnően rosszkedvű, haragos, veszekedős: *Bal lábbal kelt föl.*

- a) Elmond, kikotyog valamit, amit titokban kellene tartania:

*El..... a szá..... .*

- b) Nem titkolja el, kereken megmondja a véleményét:

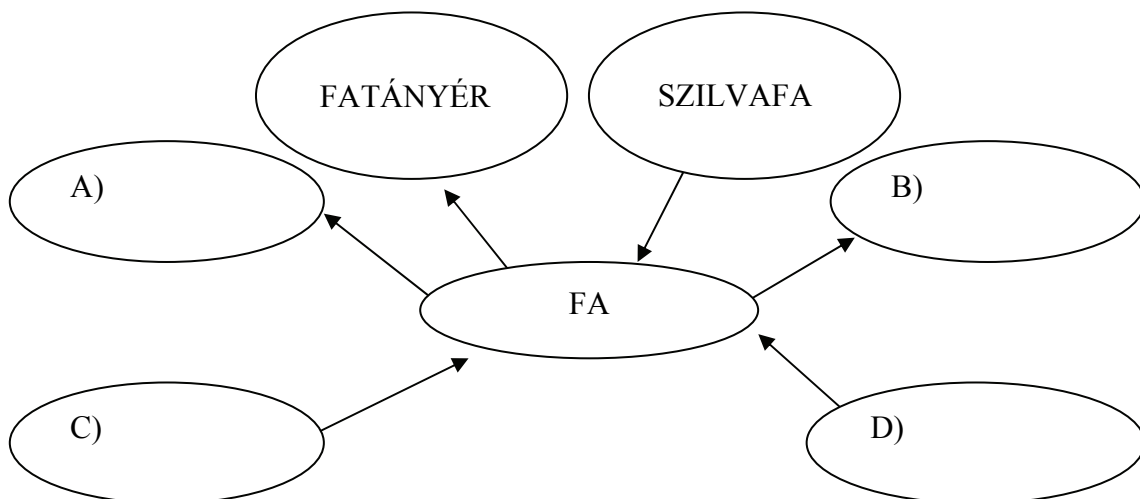
*Nem t..... la..... a szá..... .*

- c) Tétlenül ácsorog, báméskodik; csodálkozik, bámul valamin:

*A szá..... tá..... .*

2. Alkoss új összetett szavakat a FA szóval és a megadott szótagok segítségével a minta szerint! Minden szótagot csak egyszer használhatsz fel! Válaszodban csak az alább felsorolt szótagok szerepelhetnek! A nyilak irányára is figyelj!

a	
---	--



DA FE GÓ SZIL MÖLCS VA VÁ FÁ NYÓ RAB GYÜ NYÉR

3. Olvasd el figyelmesen a következő verset, majd oldd meg a hozzá kapcsolódó feladatokat!

a	
b	
c	
d	
e	

### Verebek gyűlése

Összegyűltek, összegyűltek  
gyűlésbe a verebek  
– Bennünket szid minden ember,  
hallgattuk már eleget!

Szónokol a verébszónok:  
– Súlyos ellenünk a vád!  
Ugyan szemtelenek volnánk?  
Ezt nem tűrhetjük tovább!

Szól a másik: – Hallottátok?  
Azt mondják, a gabonát  
csipegetjük, mi mihasznák!  
Ezt nem tűrhetjük tovább!

A harmadik: – Ráadásul  
szép dalunkra mit sem ad,  
felnőtt-gyermek csak szid érte.  
Ezt nem tűrhetjük tovább!

A negyedik: – Elesszük a  
tyúkok elől a magot?  
Megesik tán ..., de a túlzás  
híve azért nem vagyok!

S civakodnak, csivitelnek,  
csipog ezer fityfiritty:  
– Ártatlanul bélyegez meg  
bennünket a sok irigy!

És mi okkal és mi joggal?  
Egy mond egyet, mást a más,  
messzehallszó, fülrepszó  
ez a nagy zsinatolás.

Szóval szépen összevesztek,  
veszekedtek eleget,  
végül semmit se végeztek  
gyűlésben a verebek.

(*Szilágyi Domokos*)

- a) Karikázd be az ötödik versszak **sorvégi** rímelő szavait!

b) Írd le helyes tagolással a következő mondatot!

A verebek mindig elszozták enni a tyúkokat a lamagot.

.....

.....

c) Húzd alá a felsorolásból azt, ami jellemző a verebekre a **vers alapján!**

hangosak – lusták – türelmetlenek – bátrak – nyugodtak – sértődöttek

d) Miről panaszkodik a harmadik verébszónok? .....

.....

e) Húzd alá a felsorolásból a hangutánzó szót!

civakodnak – csivitelnek – fityfiritty

4. Írd a vonalra a megadott szavak ellentétes jelentésű párját a 3. feladat verse alapján!

a) mihaszna ↔ .....

b) szid ↔ .....

c) ártatlan ↔ .....

a	
b	
c	

5. Írj egy-egy mondatot a *szem* szó két különböző jelentésével! (A szóhoz a mondatban kapcsolhatsz toldalékot is.)

a) .....

b) .....

a	
b	

6. Karikázd be a helyesen írt szavak számjelét!

a) 1. vizilabda      2. vízilabda

b) 1. tanusit      2. tanusít      3. tanúsit      4. tanúsít

c) 1. turista      2. túrista

d) 1. aggyad      2. agyjad      3. adjad      4. addjad

e) 1. agancs      2. aggancs

f) 1. kapzsi      2. kabzsi

a	
b	
c	
d	
e	
f	

7. Olvasd el figyelmesen a szöveget, majd oldd meg a hozzá kapcsolódó feladatokat!



Körös–Maros Nemzeti Park Igazgatóság  
5540 Szarvas, Anna-liget 1.  
Tel.: 66/313-855; Fax: 66/311-658  
E-mail: [kmnp@kmnp.hu](mailto:kmnp@kmnp.hu)  
Honlap: [www.kmnp.nemzetipark.gov.hu](http://www.kmnp.nemzetipark.gov.hu)

a	
b	
c	
d	
e	
f	
g	
h	

*Hazánk* hetedikként alapított nemzeti parkja a Körös–Maros Nemzeti Park. A nemzeti park *mozaikos* felépítésű, tizenhárom területi egységből áll, teljes területe 51 125 hektár, amelyből 6 419 hektár fokozottan védett. A Körösök és a Maros völgyének *vízrendezése* során végbement változások eredményeként a mezőgazdaság a tájat átalakította, a legtöbb területet *elhódította*. A Körös–Maros Nemzeti Park legfőbb feladata a fennmaradt természeti értékek megőrzése az utókor számára.

A festőien kanyargó Berettyó szabályozatlan szakaszával megőrizte a terület ősi szépségét.

Szikes tájainak *legismertebb* védett madara a túzok, melynek *ékessége* a foszlott fehér dísztollak szálaiból álló bajusz.

Két látogatóközpont, egy madárvárta, öt tanösvény, *több* kerékpárút és igényes szálláshelyek várják a természetet megismerni kívánó gyermekeket, felnőtteket.

Döntsd el, hogy igazak-e az alábbi mondatok? Válaszaidat I (igaz) vagy H (hamis) betűvel jelöld!

- a) ..... A Körös–Maros Nemzeti Park 51 125 hektárnyi területe fokozottan védett.  
b) ..... A mezőgazdaság fejlődése ellenére is megmaradt a táj eredeti képe.  
c) ..... A Körös–Maros Nemzeti Park legfontosabb feladata a kulturális értékek megőrzése.

Egészítsd ki a mondatokat a szöveg alapján!

- d) A Körös–Maros Nemzeti Park alapítása előtt hazánkban ..... nemzeti park volt.  
e) A parkot felkeresők ..... szálláshelyeket találnak.

Válaszolj a kérdésekre!

- f) Miért volt szükség a folyók vízrendezésére, szabályozásra?

.....

- g) Melyik címet írnád a borítékra, ha levélben érdeklődnél park további látnivalóival kapcsolatban? Karikázd be a címet!

h) Karikázd be annak a képnek a számát, amelyiken a szövegbeli tüzök látható?

1.



2.



3.



8. Nevezd meg a szövegbeli kiemelt szavak (7. feladat) szófaját! Töltsd ki az alábbi táblázatot a *minta* alapján!

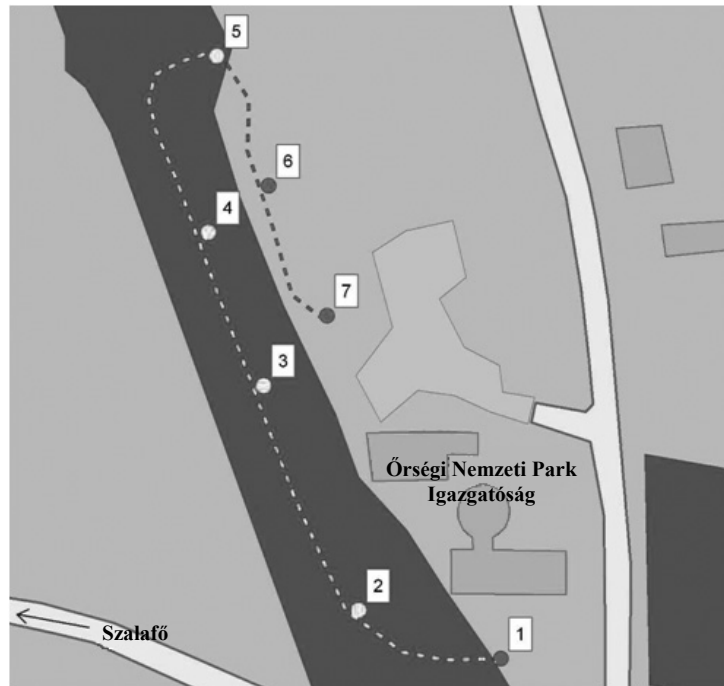
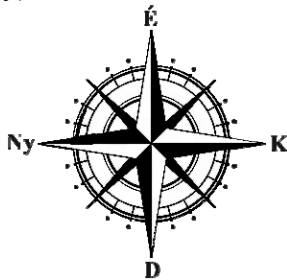
PÉLDA	SZÓFAJA
<i>házánk</i>	<i>főnév</i>
a) mozaikos	
b) elhódította	
c) vízrendezése	
d) több	
e) ékessége	
f) legismertebb	

a	
b	
c	
d	
e	
f	

9. Tanulmányozd az ábrát, majd válaszolj a kérdésekre!

A **tanösvény állomásai:**

1. Tájékoztató tábla
2. Fasorok élővilága
3. Az erdők kialakulása
4. Erdőgazdálkodási módok az őrségi erdőkben
5. Az erdőszegély
6. Őshonos háziállataink
7. A "tóka" élővilága (tóka = állatok itatására létesített hely)



a	
b	
c	

a) Hol található ez a tanösvény? .....

b) Hányadik állomáson szerezhetnek információt a látogatók arról, hogy régen milyen állatokat tartottak ezen a vidéken? .....

c) Egészítsd ki az alábbi mondatot a **megfelelő kifejezés aláhúzásával!**

A tanösvény 3. állomásától a következő állomás eléréséig *északkeleti / északnyugati / délkeleti / délnyugati* irányban kell folytatnunk az utunkat.

